



EDITAL Nº 02/2020
DE PROCESSOS SELETIVOS (PS)

MISSÃO

Ser um referencial público em saúde, prestando assistência de excelência, gerando conhecimento, formando e agregando pessoas de alta qualificação.

PS 37 - PROFISSIONAL DE APOIO II
(Pedreiro)

MATÉRIA	QUESTÕES	PONTUAÇÃO
Português	01 a 10	0,25 cada
Conhecimentos Específicos	11 a 40	0,25 cada

ATENÇÃO: transcreva no espaço apropriado da sua FOLHA DE RESPOSTAS, com sua caligrafia usual, considerando as letras maiúsculas e minúsculas, a seguinte frase:

A pressa é inimiga da perfeição.



DIREITOS AUTORAIS RESERVADOS. PROIBIDA A REPRODUÇÃO, AINDA QUE PARCIAL, SEM A PRÉVIA AUTORIZAÇÃO DA FAURGS E DO HCPA.

Nome do Candidato: _____

Inscrição nº: _____



FAURGS
Fundação de Apoio da Universidade Federal do Rio Grande do Sul

INSTRUÇÕES

- 1 Verifique se este CADERNO DE QUESTÕES corresponde ao Processo Seletivo para o qual você está inscrito. Caso não corresponda, solicite ao Fiscal da sala que o substitua.
- 2 Esta PROVA consta de **40** (quarenta) questões objetivas.
- 3 Caso o CADERNO DE QUESTÕES esteja incompleto ou apresente qualquer defeito, solicite ao Fiscal da sala que o substitua.
- 4 Para cada questão objetiva, existe apenas **uma** (1) alternativa correta, a qual deverá ser assinalada na FOLHA DE RESPOSTAS.
- 5 Os candidatos que comparecerem para realizar a prova **não deverão portar** armas, malas, livros, máquinas calculadoras, fones de ouvido, gravadores, *paggers*, *notebooks*, **telefones celulares**, *pen drives* ou quaisquer aparelhos eletrônicos similares, nem utilizar véus, bonés, chapéus, gorros, mantas, lenços, aparelhos auriculares, próteses auditivas, óculos escuros, ou qualquer outro adereço que lhes cubra a cabeça, o pescoço, os olhos, os ouvidos ou parte do rosto, exceto em situações previamente autorizadas pela Comissão do Concurso e/ou em situações determinadas em lei (como o caso presente do uso obrigatório de máscara, em virtude da pandemia do Coronavírus). **Os relógios de pulso serão permitidos, desde que permaneçam sobre a mesa, à vista dos fiscais, até a conclusão da prova.** (conforme subitem 7.10 do Edital de Abertura)
- 6 **É de inteira responsabilidade do candidato comparecer ao local de prova munido de caneta esferográfica, preferencialmente de tinta azul, de escrita grossa, para a adequada realização de sua Prova Escrita. Não será permitido o uso de lápis, marca-textos, réguas, lapiseiras/grafites e/ou borrachas durante a realização da prova.** (conforme subitem 7.15.2 do Edital de Abertura)
- 7 Não será permitida nenhuma espécie de consulta em livros, códigos, revistas, folhetos ou anotações, nem o uso de instrumentos de cálculo ou outros instrumentos eletrônicos, exceto nos casos em que forem pré-estabelecidos no item 13 do Edital. (conforme subitem 7.15.3 do Edital de Abertura)
- 8 Preencha com cuidado a FOLHA DE RESPOSTAS, evitando rasuras. Eventuais marcas feitas nessa FOLHA a partir do número **41** serão desconsideradas.
- 9 Ao terminar a prova, entregue a FOLHA DE RESPOSTAS ao Fiscal da sala.
- 10 A duração da prova é de **três horas (3h)**, já incluído o tempo destinado ao preenchimento da FOLHA DE RESPOSTAS. Ao final desse prazo, a FOLHA DE RESPOSTAS será **imediatamente** recolhida.
- 11 **O candidato somente poderá se retirar da sala de prova uma hora (1h) após o seu início. Se quiser levar o Caderno de Questões da Prova Escrita, o candidato somente poderá se retirar da sala de prova uma hora e meia (1h30min) após o início. O candidato não poderá anotar/copiar o gabarito de suas respostas de prova.**
- 12 **Após concluir a prova e se retirar da sala, o candidato somente poderá se utilizar de sanitários nas dependências do local de prova se for autorizado pela Coordenação do Prédio e se estiver acompanhado de um fiscal.** (conforme subitem 7.15.6 do Edital de Abertura)
- 13 Ao concluir a Prova Escrita, o candidato deverá devolver ao fiscal da sala a Folha de Respostas (Folha Óptica). Se assim não proceder, será excluído do Processo Seletivo. (conforme subitem 7.15.8 do Edital de Abertura)
- 14 A desobediência a qualquer uma das recomendações constantes nas presentes instruções poderá implicar a anulação da prova do candidato.



Instrução: As questões **01** a **05** referem-se ao texto abaixo.

01. Foi no ano de 1811. Contava-se que na Banda Oriental havia barulho, _____ os platinos queriam se ver livres da Espanha. Quem é que ia entender aquela confusão? Diziam também que D. Diogo de Souza, o comandante das forças portuguesas na Capitania do Rio Grande, estava acampado em Bagé com seus exércitos. Tudo indicava que estava preparando a invasão.
02. Arminda rezava dia e noite diante do Cristo sem nariz. As mulheres de Santa Fé encheram a capela no dia em que se confirmaram os boatos de guerra. E lá dentro o rumor das rezas se misturava com o do choro.
03. Quando Chico Amaral apareceu uma tarde, exaltado, em cima do seu cavalo e mandou tocar sino, chamando os habitantes do lugar, Ana Terra saiu com um frio na alma, _____ sabia o que ia acontecer. E tudo aconteceu como ela temia. D. Diogo de Souza apelava para o Maj. Francisco Amaral, pedindo-lhe que se reunisse o quanto antes com seus homens às forças portuguesas que iam invadir a Banda Oriental.
04. Pedro teve de abandonar a lavoura para se incorporar _____ tropa de Chico Amaral.
05. – Uma coisa me diz que desta guerra eu não volto – murmurou ele quando se preparava para partir.
06. Arminda, que chorava com Bibiana agarrada às saias, não disse nada. Mas Ana Terra, que tinha os olhos secos, botou a mão no ombro do filho e falou:
07. – Volta, sim. – E como se tudo dependesse de Pedro, ela olhou-o bem nos olhos e disse: – Vosmecê precisa voltar. Pense nos seus filhos, na sua mulher, na sua lavoura.
08. Os olhos de Pedro brilharam.
09. – Mãe, tome conta de tudo.
10. – Nem precisa dizer.

Adaptado de: VERISSIMO, E. *O tempo e o vento: o continente I*. 34ª ed. São Paulo: Globo, 1997.

01. Assinale a alternativa que preenche corretamente as lacunas das linhas 02, 16 e 22.

- (A) porque – porque – a
 (B) por que – por que – à
 (C) porque – porque – à
 (D) por que – por que – a
 (E) porque – porquê – à

02. Considere as seguintes afirmações.

- I - A oração **na Banda Oriental havia barulho** (l. 01-02) é uma oração sem sujeito.
 II - O sujeito da forma verbal **Diziam** (l. 04) é um sujeito indeterminado.
 III- O sujeito da forma verbal **disse** (l. 26) é um sujeito simples.

Quais estão corretas?

- (A) Apenas II.
 (B) Apenas I e II.
 (C) Apenas I e III.
 (D) Apenas II e III.
 (E) I, II e III.

03. Assinale a alternativa que apresenta apenas substantivos retirados do texto.

- (A) **livres** (l. 03) – **confusão** (l. 04) – **Bagé** (l. 06)
 (B) **invasão** (l. 08) – **mulheres** (l. 10) – **rumor** (l. 12)
 (C) **tarde** (l. 13) – **alma** (l. 16) – **temia** (l. 17)
 (D) **portuguesas** (l. 20) – **lavoura** (l. 21) – **Chico Amaral** (l. 22)
 (E) **coisa** (l. 23) – **saias** (l. 26) – **tome** (l. 33)

04. Assinale a alternativa que **NÃO** apresenta uma forma verbal conjugada no pretérito imperfeito do modo indicativo.

- (A) **rezava** (l. 09)
 (B) **encheram** (l. 10)
 (C) **sabia** (l. 16)
 (D) **iam** (l. 20)
 (E) **preparava** (l. 24)

05. Assinale **V** (verdadeiro) ou **F** (falso) nas afirmações a seguir.

- () Os pronomes **ela** (l. 17), **lhe** (l. 18) e **que** (l. 26) se referem à personagem Ana Terra.
 () Os pronomes **se** (l. 18) e **seus** (l. 19) se referem ao personagem Maj. Francisco Amaral.
 () Os pronomes **me** (l. 23), **ele** (l. 24) e **o** (l. 29) se referem ao personagem Pedro.

A sequência correta de preenchimento dos parênteses, de cima para baixo, é

- (A) V – V – F.
 (B) V – F – V.
 (C) F – F – V.
 (D) F – V – V.
 (E) F – F – F.

Instrução: As questões **06** a **10** referem-se ao texto abaixo.

01. O Rio Grande do Sul produzia trigo e gado, usado
 02. na fabricação de charque, mantas de couro, sebo e
 03. chifre. Suas fazendas eram gigantescas. Um dos
 04. maiores pecuaristas da região, José Antônio dos Anjos,
 05. abatia 50.000 cabeças de gado por ano. Em 1808, o
 06. Porto do Rio Grande, com 500 casas e 2.000 habitantes,
 07. recebia 150 navios por ano, o triplo da vizinha Monte-
 08. vidéu. Exportava essas mercadorias para todo o resto
 09. do país e também para Portugal, África e os domínios
 10. portugueses nas Índias. Importava das outras regiões
 11. da própria colônia aguardente, açúcar, tabaco, algodão,
 12. arroz, mandioca e doces em geral. E, de Portugal, vinho,
 13. óleo, azeitonas, vidro, cordas, tintas, espingardas de
 14. caça, munições, facões e mercadorias inglesas como
 15. ferro, tecidos e chapéus. Porto Alegre, promovida a
 16. capital da província em julho de 1773, era então um
 17. pacato vilarejo com 6.035 habitantes.
 18. Com cerca de 3.000 habitantes, a Ilha de Santa
 19. Catarina, onde hoje está situada a cidade de Florianópolis,
 20. já naquela época deslumbrava os viajantes pela
 21. beleza e pela organização. "A cidade proporciona agradável
 22. retiro aos comerciantes afastados dos negócios,
 23. comandantes aposentados e outras pessoas que, tendo
 24. assegurado a sua independência, procuram apenas
 25. lazeres para desfrutá-la", anotou o viajante John
 26. Mawe, que em 1807 percorreu o sul do Brasil, vindo de
 27. Buenos Aires. Curiosamente, é uma vocação que
 28. Florianópolis mantém ainda hoje, como destino favorito
 29. de executivos e profissionais liberais aposentados.
 30. Mawe também passou por Curitiba, na época uma
 31. região pastoril, com poucos moradores, dedicada à
 32. produção de bois e mulas para abastecer os mercados
 33. de São Paulo e Rio de Janeiro.

Adaptado de: GOMES, L. 1808. Como uma rainha louca, um príncipe medroso e uma corte corrupta enganaram Napoleão e mudaram a História de Portugal e do Brasil. São Paulo: Planeta, 2007.

06. Assinale **V** (verdadeiro) ou **F** (falso) nas afirmações a seguir.

- () De acordo com o texto, a cidade de Rio Grande era, em 1808, uma região mais movimentada do que a capital Porto Alegre.
 () Com o uso do advérbio **já** (l. 20), o autor deixa transparecer a ideia de que Florianópolis não apenas deslumbrava os viajantes da época como ainda hoje deslumbrava.
 () De acordo com o texto, trigo e gado eram comumente utilizados na fabricação de charque e outros produtos como sebo, chifre e mantas de couro.

A sequência correta de preenchimento dos parênteses, de cima para baixo, é

- (A) V – F – F.
 (B) V – F – V.
 (C) F – F – V.
 (D) V – V – F.
 (E) F – V – F.

07. Numere a coluna da esquerda de acordo com a da direita, relacionando os vocábulos à respectiva classificação silábica.

- | | |
|----------------------------|---------------------------|
| () maiores (l. 04) | (1) Palavra monossilábica |
| () recebia (l. 07) | (2) Palavra dissilábica |
| () Ilha (l. 18) | (3) Palavra trissilábica |
| () região (l. 31) | (4) Palavra polissilábica |
| () bois (l. 32) | |

A sequência correta de preenchimento dos parênteses, de cima para baixo, é

- (A) 4 – 3 – 2 – 2 – 1.
 (B) 3 – 4 – 3 – 2 – 1.
 (C) 4 – 3 – 1 – 3 – 2.
 (D) 3 – 4 – 2 – 3 – 1.
 (E) 4 – 3 – 1 – 2 – 2.

08. Considere as seguintes afirmações.

- I - O sujeito da forma verbal **Importava** (l. 10) é **O Rio Grande do Sul** (l. 01).
 II - O sujeito da locução verbal **está situada** (l. 19) é **a cidade de Florianópolis** (l. 19-20).
 III- O sujeito da forma verbal **procuram** (l. 24) é **comandantes aposentados** (l. 23).

Quais estão corretas?

- (A) Apenas II.
 (B) Apenas I e II.
 (C) Apenas I e III.
 (D) Apenas II e III.
 (E) I, II e III.

09. Assinale a alternativa que apresenta sinônimos das palavras **pacato** (l. 17), **assegurado** (l. 24) e **desfrutá-la** (l. 25), tais como foram empregadas no texto.

- (A) pacífico – outorgado – colhê-la.
 (B) capaz – apenhorado – gozá-la.
 (C) agitado – atingido – apreciá-la.
 (D) apático – conquistado – desperdiçá-la.
 (E) calmo – garantido – usufruí-la.

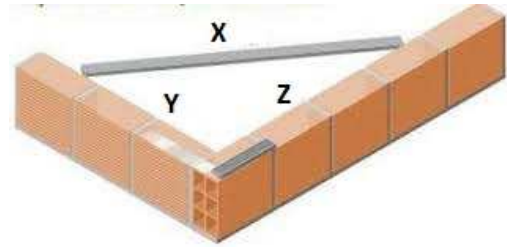
10. Numere a coluna da esquerda de acordo com a da direita, relacionando os vocábulos à respectiva classificação quanto à sílaba tônica.

- | | |
|--------------------------------|---------------------------|
| () mercadorias (l. 08) | (1) Palavra oxítona |
| () chapéus (l. 15) | (2) Palavra paroxítona |
| () habitantes (l. 18) | (3) Palavra proparoxítona |
| () época (l. 20) | |
| () pastoril (l. 31) | |

A sequência correta de preenchimento dos parênteses, de cima para baixo, é

- (A) 2 – 1 – 2 – 3 – 1.
 (B) 2 – 1 – 2 – 3 – 3.
 (C) 3 – 2 – 1 – 3 – 3.
 (D) 3 – 1 – 3 – 1 – 2.
 (E) 2 – 2 – 3 – 1 – 1.

11. Observe a figura abaixo.



Ao novo pedreiro contratado do Hospital de Clínicas, foi solicitada a execução de elevação de alvenaria nas dependências do HCPA. Considerando a figura acima, quais os valores de X, Y e Z, respectivamente, para que a execução de alvenaria possua 90° entre uma parede e outra?

- (A) X = 50 cm; Y = 50 cm; Z = 50 cm.
 (B) X = 80 cm; Y = 50 cm; Z = 60 cm.
 (C) X = 85 cm; Y = 30 cm; Z = 60 cm.
 (D) X = 100 cm; Y = 30 cm; Z = 100 cm.
 (E) X = 100 cm; Y = 60 cm; Z = 80 cm.

12. Na execução de elevação de alvenaria, qual a espessura adequada da junta de argamassa?

- (A) 1 mm.
 (B) 1 cm.
 (C) 4 cm.
 (D) 1 dm.
 (E) 1 m.

13. Considere que um vão de 3 metros de comprimento e 2,40 metros de altura deva ser fechado com alvenaria por um pedreiro do HCPA. Considere ainda que o tijolo possui dimensões de 30 cm de comprimento e 20 cm de altura. Dessa forma, desconsiderando a junta de argamassa, quantos tijolos serão necessários para fechar o vão?

- (A) 50.
 (B) 90.
 (C) 120.
 (D) 129.
 (E) 200.

14. Qual, dentre os itens abaixo, não é utilizado na elevação de alvenaria?

- (A) Colher de pedreiro.
 (B) Escantilhão.
 (C) Prumo.
 (D) Maçarico.
 (E) Nível de bolha.

15. Considere as afirmações abaixo sobre execução de estruturas de concreto.

- I - Deve-se adicionar água no concreto usinado que vier direto da empresa concreteira, se o mesmo estiver muito seco.
- II - Na hora de vibrar o concreto na fôrma, deve-se deixar o máximo de tempo possível.
- III- Deve-se evitar a queda do concreto acima de 2 metros, como normalmente pode ocorrer na concretagem de pilares.

Quais estão corretas?

- (A) Apenas I.
- (B) Apenas II.
- (C) Apenas III.
- (D) Apenas I e II.
- (E) Apenas II e III.

16. Qual tipo de elemento estrutural de fundação não necessita o uso de aço?

- (A) Bloco.
- (B) Sapata.
- (C) Sapata corrida.
- (D) Microestaca.
- (E) Viga de equilíbrio.

17. Considere as afirmativas abaixo em relação ao revestimento de argamassa em paredes de alvenaria.

- I - O uso de chapisco é aconselhável para aumentar a aderência da argamassa ao substrato.
- II - Nas ligações entre alvenaria e estruturas de concreto, é aconselhável o uso de telas *deployer* para absorver as tensões provenientes das diferenças entre os materiais.
- III- Não se devem utilizar telas hexagonais metálicas em revestimentos com argamassa de espessuras acima 2,5 cm.

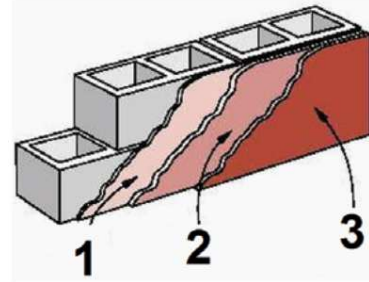
Quais estão corretas?

- (A) Apenas I.
- (B) Apenas II.
- (C) Apenas III.
- (D) Apenas I e II.
- (E) Apenas II e III.

18. Qual das alternativas abaixo contempla todos os materiais necessários para fazer concreto?

- (A) Cimento, areia e água.
- (B) Cimento, areia, água e cal.
- (C) Cimento, areia, brita, água e gesso.
- (D) Cimento, brita, gesso, água e cal.
- (E) Cimento, areia, brita e água.

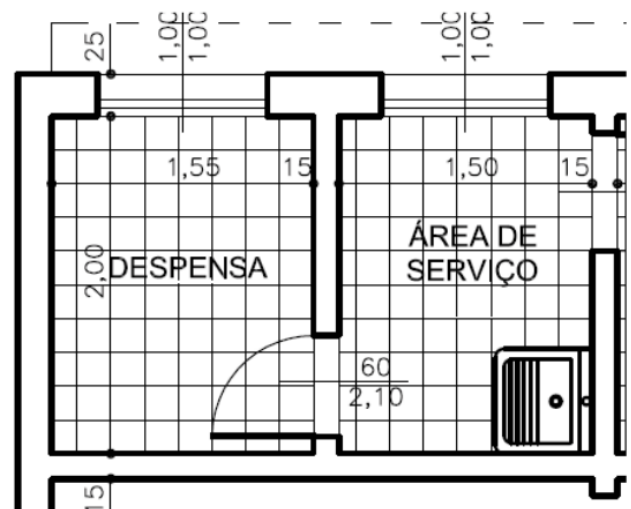
19. Observe a figura abaixo.



Considerando a execução de revestimentos em argamassa, qual o nome das camadas referentes aos números 1, 2 e 3, na figura acima, respectivamente?

- (A) Reboco, chapisco e emboço.
- (B) Emboço, chapisco, reboco.
- (C) Chapisco, reboco e emboço.
- (D) Reboco, emboço e chapisco.
- (E) Chapisco, emboço e reboco.

20. Considere a imagem abaixo.



Qual a área de piso do local chamado despensa?

- (A) 2 m².
- (B) 3,1 m².
- (C) 5,55 m².
- (D) 6,23 m².
- (E) 8,24 m².

21. A respeito do Código de Ética Profissional do Servidor Público Civil do Poder Executivo Federal, considere as afirmações abaixo.

- I - É dever fundamental do servidor público se apresentar ao trabalho com vestimentas adequadas ao exercício da função.
- II - O servidor público poderá apresentar-se embriagado no serviço, desde que em caráter excepcional.
- III - O servidor público poderá desprezar o elemento ético de sua conduta. Assim, poderá decidir livremente entre o legal e o ilegal, o justo e o injusto, o conveniente e o inconveniente, o oportuno e o inoportuno, mas, principalmente, entre o honesto e o desonesto.
- IV - O trabalho desenvolvido pelo servidor público perante a comunidade deve ser entendido como acréscimo ao seu próprio bem-estar, já que, como cidadão, integrante da sociedade, o êxito desse trabalho pode ser considerado como seu maior patrimônio.

Quais estão corretas?

- (A) Apenas I e II.
- (B) Apenas I e III.
- (C) Apenas I e IV.
- (D) Apenas II e III.
- (E) Apenas I, II e IV.

22. Numere a segunda coluna de acordo com a primeira, associando as responsabilidades relativas aos EPIs (Equipamentos de Proteção Individual) a quem a elas responde.

- (1) Empregador
 - (2) Trabalhador
 - (3) Fabricante e/ou importador
- () Usar, utilizando-os apenas para a finalidade a que se destinam.
 - () Adquirir os equipamentos adequados ao risco de cada atividade.
 - () Comercializar ou colocar à venda somente os EPIs portadores de Certificado de Aprovação (CA).
 - () Responsabilizar-se pela guarda e conservação.
 - () Orientar e dar treinamento sobre o uso adequado, guarda e conservação.

A sequência numérica correta de preenchimento dos parênteses da segunda coluna, de cima para baixo, é

- (A) 3 – 2 – 2 – 3 – 1.
- (B) 2 – 1 – 3 – 2 – 1.
- (C) 1 – 1 – 3 – 2 – 2.
- (D) 1 – 3 – 2 – 3 – 2.
- (E) 2 – 2 – 3 – 1 – 3.

23. A respeito do uso de escadas de mão, analise as afirmações abaixo e assinale a **INCORRETA**.

- (A) A escada de mão deve ter seu uso restrito para acessos provisórios e serviços de pequeno porte.
- (B) É proibido o uso de escada de mão com montante único.
- (C) É proibido colocar escada de mão nas proximidades de portas ou áreas de circulação.
- (D) A escada de mão deve ser usada quando houver risco de queda de objetos ou materiais.
- (E) A escada de mão deve ser apoiada em piso resistente.

24. A respeito da armazenagem e estocagem de materiais, analise as afirmações abaixo e assinale a **INCORRETA**.

- (A) A cal virgem deve ser armazenada em local seco e arejado.
- (B) Os materiais não podem ser empilhados diretamente sobre piso instável, úmido ou desnivelado.
- (C) O armazenamento deve ser feito de modo a permitir que os materiais sejam retirados obedecendo à sequência de utilização planejada, de forma a não prejudicar a estabilidade das pilhas.
- (D) As pilhas de materiais, a granel ou embalados, devem ter forma e altura que garantam a sua estabilidade e facilitem o seu manuseio.
- (E) As madeiras retiradas de andaimes, tapumes, fôrmas e escoramentos podem ser depositadas em qualquer lugar, pois não representam risco de queda.

25. É o forro empregado para permitir a fácil inspeção das instalações. Sua colocação é feita com perfis metálicos fixados ao madeiramento do telhado, estrutura metálica ou laje.

A descrição acima refere-se ao forro

- (A) de gesso removível.
- (B) de gesso fixo com estrutura metálica.
- (C) de concreto.
- (D) acústico.
- (E) isolante.

26. Para a correta instalação da manta asfáltica, deve-se: limpar a superfície, aplicar a primeira demão de *primer* (pintura de ligação), com pincel ou rolo, aguardar _____ para a secagem; em seguida, inicia-se a colocação da manta asfáltica. Após a colocação da primeira manta, as demais deverão ser colocadas com uma sobreposição de _____ nas bordas, para que haja uma perfeita continuidade em toda a superfície impermeabilizada.

Assinale a alternativa que preenche, correta e respectivamente, as lacunas do parágrafo acima.

- (A) 30 minutos – 5 cm
- (B) 30 minutos – 10 cm
- (C) 4 horas – 10 cm
- (D) 4 horas – 30 cm
- (E) 12 horas – 30 cm

27. Analise as etapas abaixo da execução do tratamento das juntas, para que o encontro de duas placas do forro de gesso não fique aparente.

- I - Aplicam-se duas camadas de gesso, sendo a última delas aplicada com desempenadeira de aço.
- II - Caso necessário, após a secagem, lixa-se com lixa fina.
- III- Aplica-se fita de papel Kraft sobre a camada de gesso já seca. Eliminam-se as bolhas de ar que se formam no papel, com a utilização da espátula.
- IV- Preenche-se a junta com uma camada de gesso dissolvido em água até que se tenha uma pasta de consistência plástica. O preenchimento da junta é feita com espátula.

Assinale a alternativa que apresenta a sequência correta da execução acima mencionada.

- (A) I – II – III – IV.
- (B) I – III – IV – II.
- (C) II – I – IV – III.
- (D) III – IV – II – I.
- (E) IV – III – I – II.

28. Assinale a alternativa correta a respeito da execução de alvenaria sem função estrutural de tijolos e blocos cerâmicos.

- (A) Os tijolos e blocos cerâmicos devem estar bem secos antes de sua aplicação.
- (B) Deve-se utilizar o prumo de pedreiro para alinhamento vertical da alvenaria (prumada).
- (C) A execução da alvenaria deve ser iniciada pelo centro da parede.
- (D) Para execução de alvenaria de blocos de vedação, os mesmos devem ser usados com furos na vertical.
- (E) Os vãos de portas e janelas devem ser abertos depois que as paredes estiverem prontas.

29. Considere as afirmações abaixo, em relação às vergas e contravergas.

- I - As vergas são componentes estruturais, localizados sobre os vãos da alvenaria.
- II - As vergas e contravergas devem exceder a largura do vão em pelo menos 20 cm de cada lado e devem ter altura mínima de 10 cm.
- III- Mesmo se os vãos estiverem relativamente próximos e na mesma altura, não se pode fazer uma única verga sobre todos eles.

Quais estão corretas?

- (A) Apenas I.
- (B) Apenas II.
- (C) Apenas III.
- (D) Apenas I e II.
- (E) Apenas II e III.

30. Considere as afirmações abaixo, em relação ao sistema construtivo em chapas de gesso para *drywall*.

- I - As emendas dos montantes podem coincidir em uma mesma altura.
- II - As juntas verticais entre as chapas devem ser feitas sobre os montantes.
- III- Depois dos perfis estarem fixados, deve-se erguer e posicionar verticalmente as chapas de gesso, encostando-as no teto, apoiando-as aos montantes e deixando a folga na parte superior.

Quais estão corretas?

- (A) Apenas I.
- (B) Apenas II.
- (C) Apenas III.
- (D) Apenas I e II.
- (E) Apenas II e III.

31. A respeito da Lei nº 8.080, de 19 de setembro de 1990, avalie as afirmações abaixo.

- I - A saúde é um direito fundamental do ser humano, devendo o Estado prover as condições indispensáveis ao seu pleno exercício.
- II - A iniciativa privada poderá participar do Sistema Único de Saúde (SUS), em caráter complementar.
- III- A vigilância sanitária e epidemiológica não estão incluídas no campo de atuação do Sistema Único de Saúde (SUS).

Quais estão corretas?

- (A) Apenas I.
- (B) Apenas II.
- (C) Apenas III.
- (D) Apenas I e II.
- (E) I, II e III.

32. Segundo a Norma Regulamentadora nº 33 (NR-33), a definição de Espaço Confinado é qualquer área ou ambiente não projetado para ocupação humana _____, que possua meios _____ de entrada e saída, cuja ventilação existente é _____ para remover contaminantes ou onde possa existir a deficiência ou o enriquecimento de oxigênio.

Assinale a alternativa que preenche, correta e respectivamente, as lacunas do parágrafo acima.

- (A) contínua – limitados – insuficiente
- (B) temporária – suficientes – insuficiente
- (C) contínua – definitivos – suficiente
- (D) temporária – limitados – suficiente
- (E) definitiva – suficientes – limitada

33. Assinale a alternativa que **NÃO** apresenta um tipo de fundação superficial (rasa).

- (A) Radier
- (B) Estaca
- (C) Sapata
- (D) Bloco
- (E) Viga de fundação

34. De acordo com a Norma Regulamentadora nº 35 (NR-35), sobre trabalho em altura, assinale as afirmações abaixo com **V** (verdadeiro) ou **F** (falso).

- () Caso o trabalhador tenha experiência, o trabalho em altura não necessita de supervisão e pode ser realizado individualmente.
- () Todo trabalho em altura deve ser planejado, organizado e executado por trabalhador capacitado e autorizado.
- () A aptidão para trabalho em altura deve ser consignada no atestado de saúde ocupacional do trabalhador.

A sequência correta de preenchimento dos parênteses, de cima para baixo, é

- (A) V – V – F.
- (B) V – F – V.
- (C) F – V – F.
- (D) F – V – V.
- (E) F – F – V.

35. Considere a NR-35, no que diz respeito ao trabalho em altura, e numere a segunda coluna de acordo com a primeira, associando as responsabilidades a quem a elas responde.

- (1) Empregador
 - (2) Trabalhador
- () Desenvolver procedimento operacional para as atividades rotineiras de trabalho em altura.
 - () Garantir que qualquer trabalho em altura só se inicie depois de adotadas as medidas de proteção definidas nesta Norma.
 - () Cumprir as disposições legais e regulamentares sobre trabalho em altura e colaborar na implementação das disposições contidas nesta Norma.
 - () Zelar pela sua segurança e saúde e pela de outras pessoas que possam ser afetadas por suas ações ou omissões no trabalho.

A sequência numérica correta de preenchimento dos parênteses da segunda coluna, de cima para baixo, é

- (A) 1 – 1 – 2 – 2.
- (B) 1 – 2 – 2 – 2.
- (C) 1 – 2 – 1 – 2.
- (D) 2 – 2 – 1 – 1.
- (E) 2 – 1 – 1 – 2.

36. É utilizada na aplicação de argamassa colante, fabricada em chapa de aço com espessura de cerca de 0,5 mm e dimensões aproximadas de 11 cm x 28 cm, tendo reentrâncias (dentes) em dois lados adjacentes, com cabo preso por rebites no sentido longitudinal e no centro da peça.

Assinale a alternativa que apresenta o nome correto da ferramenta acima descrita.

- (A) Colher de pedreiro
- (B) Esquadro metálico
- (C) Torquês armador
- (D) Talhadeira
- (E) Desempenadeira de aço denteada

37. Em relação à execução de estruturas de concreto, avalie as afirmações abaixo.

- I - Os aços para armaduras devem ser estocados de forma a manterem inalteradas suas características geométricas e suas propriedades, desde o recebimento na obra até seu posicionamento final na estrutura.
- II - A estrutura auxiliar do sistema de fôrmas deve suportar a carga das partes da estrutura permanente até que o concreto atinja as características estabelecidas pelo responsável pelo projeto estrutural para a remoção do escoramento.
- III - Quando agentes destinados a facilitar a desmoldagem forem necessários, devem ser aplicados na fôrma após a colocação da armadura.

Quais estão corretas?

- (A) Apenas I.
- (B) Apenas II.
- (C) Apenas I e II.
- (D) Apenas II e III.
- (E) I, II e III.

38. Em relação ao uso de argamassas, assinale a afirmação correta.

- (A) As argamassas devem ser misturadas por processo mecanizado ou, preferencialmente, por processo manual, para evitar a homogeneidade da massa.
- (B) A base a ser revestida deve estar limpa, livre de pó, graxa, óleo, eflorescência, materiais soltos ou quaisquer produtos ou incrustações que venham a prejudicar a aderência ao revestimento.
- (C) No processo mecanizado, o tempo de mistura deve ser superior a 30 minutos.
- (D) Desconsiderando o uso de aditivos retardadores, o volume de produção de argamassa de cimento ou mista deve ser controlado de modo que seja utilizado em prazo máximo de cinco horas. Para temperaturas acima de 30°C, forte insolação direta sobre o estoque de argamassa ou umidade relativa do ar inferior a 50%, o prazo deve ser reduzido para quatro horas.
- (E) A base do revestimento com elevada absorção nunca deve ser pré-molhada. Deve-se fazer aplicação prévia de chapisco, quando a superfície a revestir for de boa aderência e apresentar rugosidade superficial.

39. Considere a figura abaixo.



Para o assentamento de pisos cerâmicos e porcelanato, é necessário prever de forma antecipada a quantidade de material necessário para a execução do serviço. Para o revestimento do ambiente ilustrado na figura acima, denominado "refeitório", serão utilizadas peças de porcelanato em formato 60 cm X 60 cm. Desconsiderando o espaçamento das juntas, quantas peças de porcelanato devem ser previstas, considerando uma perda de 10%?

- (A) 18.
- (B) 50.
- (C) 55.
- (D) 120.
- (E) 180.

40. Com relação aos deveres fundamentais do servidor público, assinale as afirmações abaixo com **V** (verdadeiro) ou **F** (falso).

- () Ser assíduo e frequente ao serviço, na certeza de que sua ausência provoca danos ao trabalho ordenado, refletindo negativamente em todo o sistema.
- () Manter limpo e em perfeita ordem o local de trabalho, seguindo os métodos mais adequados à sua organização e distribuição.
- () Evitar que chegue a seus superiores todo e qualquer ato ou fato contrário ao interesse público.
- () Resistir a todas as pressões de superiores hierárquicos, contratantes, interessados e outros que visem obter quaisquer favores, benesses ou vantagens indevidas em decorrência de ações imorais, ilegais ou aéticas e denunciá-las.

A sequência correta de preenchimento dos parênteses, de cima para baixo, é

- (A) V – V – F – V.
- (B) V – V – F – F.
- (C) V – F – V – V.
- (D) F – V – V – F.
- (E) F – F – V – V.

HOSPITAL DE CLÍNICAS DE PORTO ALEGRE

EDITAL Nº 02/2020 DE PROCESSOS SELETIVOS

GABARITO APÓS RECURSOS

PROCESSO SELETIVO 37

PROFISSIONAL DE APOIO II (Pedreiro)

01.	C	11.	E	21.	C	31.	D
02.	E	12.	B	22.	B	32.	A
03.	B	13.	C	23.	D	33.	B
04.	B	14.	D	24.	E	34.	D
05.	D	15.	C	25.	A	35.	A
06.	E	16.	A	26.	C	36.	E
07.	D	17.	D	27.	E	37.	C
08.	A	18.	E	28.	B	38.	B
09.	E	19.	E	29.	D	39.	C
10.	A	20.	B	30.	E	40.	A